



Ce document a été mis en ligne par l'organisme [FormaV®](#)

Toute reproduction, représentation ou diffusion, même partielle, sans autorisation préalable, est strictement interdite.

Pour en savoir plus sur nos formations disponibles, veuillez visiter :

www.formav.co/explorer

BREVET DE TECHNICIEN SUPERIEUR BATIMENT

Epreuve E4 – Etude technique

Sous - épreuve E41
Dimensionnement et vérification d'ouvrages

SESSION 2013

Durée : 4 heures

Coefficient : 2


Matériel autorisé : toutes les calculatrices de poche, y compris les calculatrices programmables alphanumériques ou à écran graphique dont le fonctionnement est autonome et qu'il ne soit pas fait usage d'imprimante (circulaire n°99-186, 16/11/1999).

« Tous les documents réponses, même vierges, doivent être rendus avec la copie. »

Dès que le sujet vous est remis, assurez-vous qu'il est complet. Ce sujet comporte 17 pages numérotées de 1/17 à 17/17.

BTS BÂTIMENT		Session 2013
Dimensionnement et vérification d'ouvrages – E41	CODE : 13-BTE4DVO	

Construction d'un hôpital



Contenu du dossier

Dossier sujet :

- DS1 (p 1/17) : Photographie de l'entrée du bâtiment A et contenu du dossier,
- DS2 (p 2/17) : Présentation de l'ouvrage, caractéristiques des matériaux et actions.
- DS3 à DS5 (p 3 à 5/17) : Travail demandé

Dossier technique :

- DT1 (p 6/17) : Plan de masse
- DT2 (p 7/17) : Plan d'architecte du rez de chaussée et de l'étage
- DT3 (p 8/17) : Coupe A-A
- DT4 (p 9/17) : Plan de coffrage du PH du RdC
- DT5 (p 10/17) : Plan de coffrage du PH de l'étage
- DT6 (p 11/17) : Plan de toiture et charpente métallique sur auvent
- DT7 (p12/17) : Documentation Goujons Staifix

Dossier annexes et formulaire :

- DA1 (p13/17) : Théorème des 3 moments, rotations aux appuis, théorème de Müller Breslau, extraits de l'Eurocode 3
- DA2 (p 14/17) : Tableau des intégrales de Mohr, caractéristiques des profilés IPN
- DA3 (p15/17) : Organigramme de calcul des poutres (Armatures longitudinales et armatures d'efforts tranchants)
- DA4 (p16/17) : Organigramme de calcul des poteaux circulaires, tableau des aciers

Dossier document réponse :

- DR1 (p17/17) : Document réponse

Barème	
Etude A : Etude de la couverture métallique de l'auvent sur entrée	6,5
Etude B : Etude de l'appui de la poutre continue 125/126 du PH du RdC, côté file N7	3,5
Etude C : Etude de la poutre continue 121/122/123 du PH du RdC	7
Etude D : Etude du poteau en béton armé P21 du RdC	3

Les quatre études sont indépendantes.

Présentation de l'ouvrage

L'objet de l'étude porte sur la construction d'un hôpital spécialisé dans les soins de rééducation et réadaptation fonctionnelle. Il s'agit d'un projet de grande envergure, décomposé en 19 blocs (repérés A à R) séparés par des joints de dilatation. Les études demandées porteront uniquement sur le bâtiment A, destiné à l'accueil et aux consultations médicales.

Ce bâtiment est de type R+1, sur vide sanitaire. Le système constructif retenu est le suivant :

Fondations : superficielles sur semelles filantes ou isolées.

Porteurs verticaux : voiles intérieurs et extérieurs en béton armé ; poteaux coulés en place.

Porteurs horizontaux :

- poutres en béton armé coulées en place.
- dalle PH du vide sanitaire : dalle en béton coulée sur prédalles, avec isolation en sous face.
- dalle PH du RdC : dalle en béton coulée sur prédalles.
- dalle PH de l'étage (toiture terrasse) : dalle en béton, réalisée à partir de dalles alvéolaires ou à partir de prédalles, selon les zones.

Toiture / couverture :

- Sur l'emprise du bâtiment : toiture terrasse inaccessible végétalisée.
- En débord, sur la périphérie du bâtiment (façades sud et ouest) : charpente métallique composée de poteaux, de poutrelles IPN et :
 - de brise soleil sur certaines zones
 - de pannes en T, supports d'une couverture en bac acier et d'une étanchéité, sur l'auvent, au niveau de l'entrée du bâtiment.

Caractéristiques des matériaux

Béton armé : Pour les éléments étudiés dans ce sujet,

- Béton : C35/45 : $f_{ck} = 35 \text{ MPa}$; $f_{cd} = \frac{f_{ck}}{\gamma_c} = 23,3 \text{ MPa}$
 $f_{ctm} = 0,30 \cdot (f_{ck})^{2/3} = 3,2 \text{ MPa}$
- Armatures : B500 : $f_{yk} = 500 \text{ MPa}$; $f_{yd} = \frac{f_{yk}}{\gamma_s} = 435 \text{ MPa}$
- Classe d'exposition XC1
- Enrobage : $c_{nom} = 25 \text{ mm}$

Acier pour charpente : S235 :

- Limite élastique : $f_y = 235 \text{ MPa}$
- Module d'élasticité longitudinale (module d'Young) : $E = 210\,000 \text{ MPa}$
- Toutes les sections des profilés utilisés seront considérées de classe 1.
- Valeur du coefficient partiel de sécurité sur la résistance des sections aux ELU : $\gamma_{M0} = 1$

Actions

Poids volumique du béton armé : 25 kN/m^3

Charges permanentes :

- Planchers intérieurs :
 - dalles (suivant épaisseur) : à définir
 - chapes + revêtements souples : $1,70 \text{ kN/m}^2$
- Couverture bac acier du auvent :
 - bac acier : $0,08 \text{ kN/m}^2$
 - étanchéité : $0,10 \text{ kN/m}^2$
 - faux plafond bois : $0,10 \text{ kN/m}^2$
 - profilé en T : T80 : $0,11 \text{ kN/ml}$
 - profilé IPN 120 : $0,11 \text{ kN/ml}$

Charges variables :

- Charges climatiques de neige : $s = 0,56 \text{ kN/m}^2$
- Charges d'exploitation sur PH du RdC : $q_k = 4 \text{ kN/m}^2$

Travail demandé

ETUDE A : Etude de la couverture métallique de l'auvent sur entrée

Documents à consulter : DS2, DT1, DT5, DT6, DR1, DA1, DA2

Hypothèses :

- Tous les éléments sont isostatiques.
- La pente de la toiture (1,5%) est négligée

A.1 - Charges reprises par une panne en T :

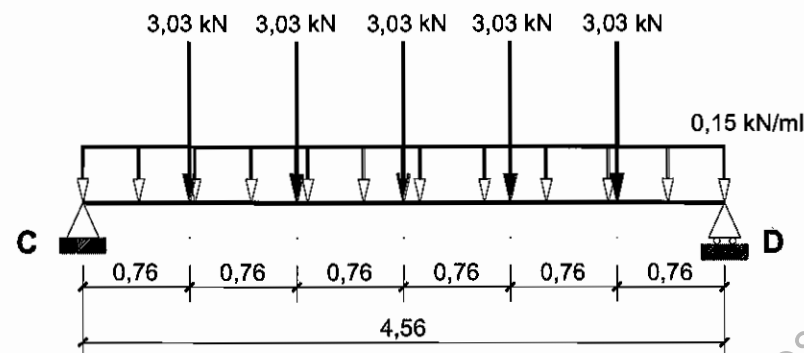
On s'intéresse à la panne repérée sur le plan de toiture (DT6).

⇒ Déterminer les valeurs des charges permanente g (en kN/m) et climatique de neige s (en kN/m) reprises par une panne en T.

Pour la suite de l'étude, on considérera une charge $p_{ELU} = 1,10$ kN/m, sur les pannes en T.

A.2 - Etude d'une poutre secondaire IPN 120 :

On s'intéresse à la poutre repérée sur le plan de toiture (DT6). Le schéma mécanique retenu pour cette poutre secondaire IPN 120 est le suivant, sous pondération ELU :



A.2.1 - Modélisation :

⇒ Justifier les valeurs numériques des charges (répartie et ponctuelles) indiquées sur ce schéma.

A.2.2 - Diagrammes de sollicitations :

⇒ Tracer, sur le document réponse DR1, les diagrammes de l'effort tranchant $V(x)$ et du moment fléchissant $M(x)$.

A.2.3 - Vérification du profilé vis-à-vis du moment fléchissant :

Pour cette vérification, on retiendra le moment fléchissant maximum : $M_{Ed} = 11$ kN.m

⇒ Vérifier la résistance du profilé IPN 120 suivant l'Eurocode 3, vis-à-vis du moment fléchissant.

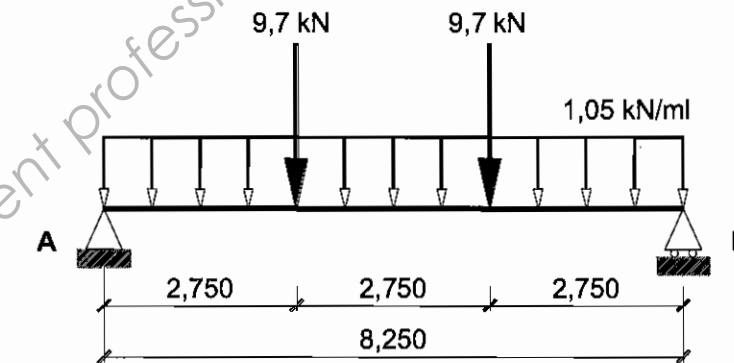
A.2.4 - Vérification du profilé vis-à-vis de l'effort tranchant :

Pour cette vérification, on retiendra l'effort tranchant maximum : $V_{Ed} = 8$ kN

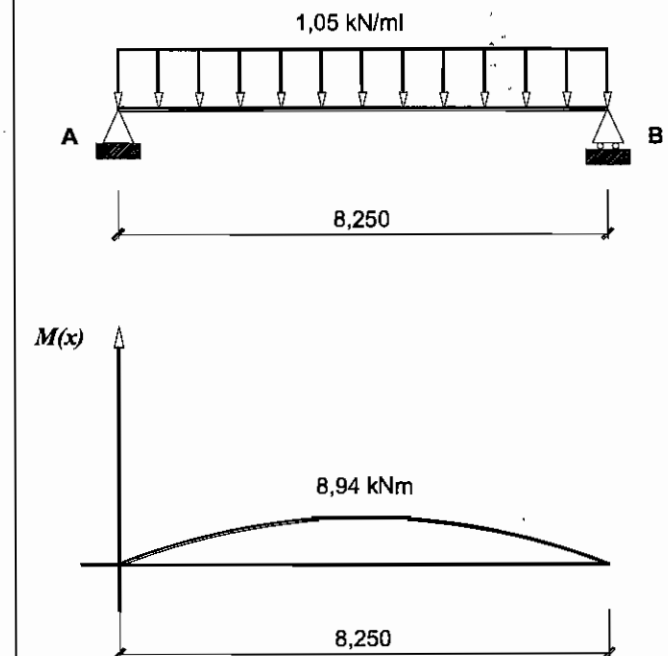
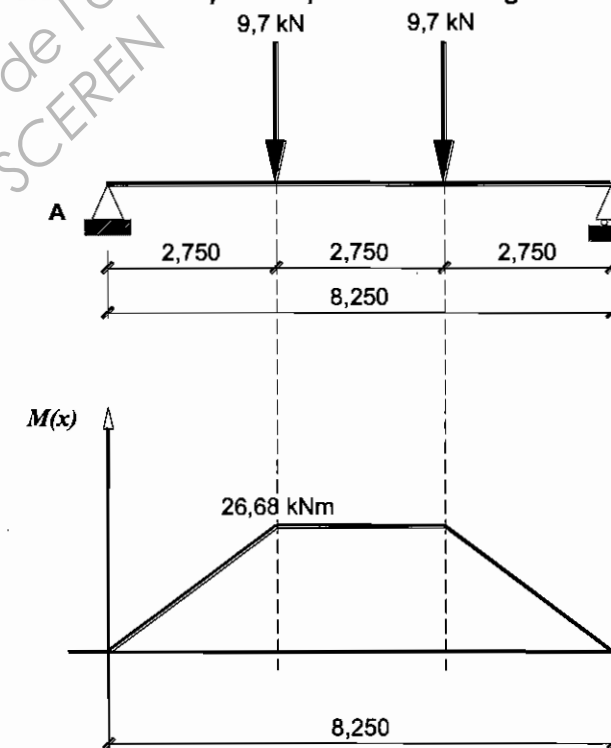
⇒ Vérifier la résistance du profilé IPN 120 suivant l'Eurocode 3, vis-à-vis de l'effort tranchant.

A.3 - Etude de la poutre primaire IPN 260 :

On envisage désormais une vérification de la poutre primaire IPN 260 repérée sur le plan de toiture DT6, vis-à-vis du critère de flèche. Le schéma mécanique retenu pour l'étude de la poutre IPN 260, sous pondération ELS est le suivant :



On vous fournit les diagrammes des moments fléchissants obtenus pour les deux chargements élémentaires qui composent le chargement de la structure réelle :



⇒ En utilisant le théorème de Müller Breslau et le tableau des intégrales de Mohr, calculer la flèche au milieu de la poutre.

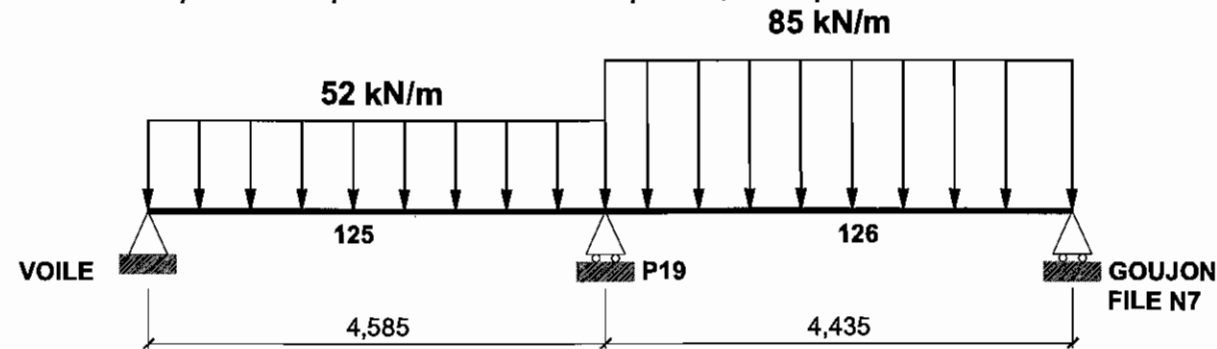
⇒ Comparer cette valeur à la valeur limite : $f_{lim} = \frac{L}{200}$ (L : portée de la poutre).

ETUDE B : Etude de l'appui de la poutre continue 125/126, côté file N7

Documents à consulter : DT4, DT7, DA1

La poutre continue 125/126 s'appuie sur le voile de la cage d'ascenseur, sur le poteau P19 et sur le voile du patio 1, par l'intermédiaire de goudons, au droit du joint de dilatation.

On s'intéresse au cas de charge qui donne l'effort tranchant maximum au niveau de l'appui, file N7. Le schéma mécanique retenu pour l'étude de cette poutre, sous pondération ELU est le suivant :



B.1 - Justification de la modélisation :

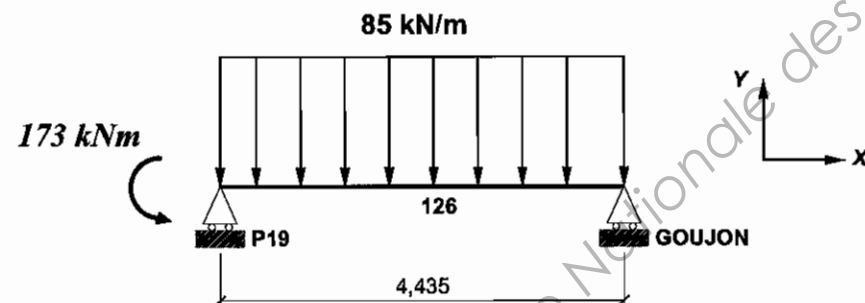
⇒ Justifier le type de liaison retenu pour l'appui file N7.

B.2 - Moment fléchissant sur appui P19 :

⇒ A l'aide du théorème des trois moments, déterminer la valeur du moment fléchissant sur l'appui P19.

B.3 - Action de liaison verticale au niveau du goujon :

Pour la travée 126, on donne le schéma mécanique ci-dessous :



⇒ Calculer l'action de liaison Y_{goujon} .

B.4 - Choix d'un modèle de goujon :

On souhaite désormais choisir le modèle de goudons à disposer à l'about de poutre, pour réaliser l'appui de rive, côté JD. Les revêtements de sol envisagés pour la dalle supportée par la poutre 125/126 étant des revêtements plastiques souples, la fissuration est jugée non préjudiciable : seule la vérification sous pondération ELU est requise. La valeur de l'effort tranchant à reprendre au niveau du goujon à l'ELU est : $V_{\text{Ed}} = 150 \text{ kN}$

⇒ Définir le modèle de goudons qui convient, en tenant compte des contraintes suivantes :

- modèle : goujon STAIFIX HALFEN DSD
- nombre de goudons : 2 éléments superposés, sur la hauteur de la poutre
- ouverture du joint : $a = 25 \text{ mm}$
- valeur minimale de D1 : 12 cm

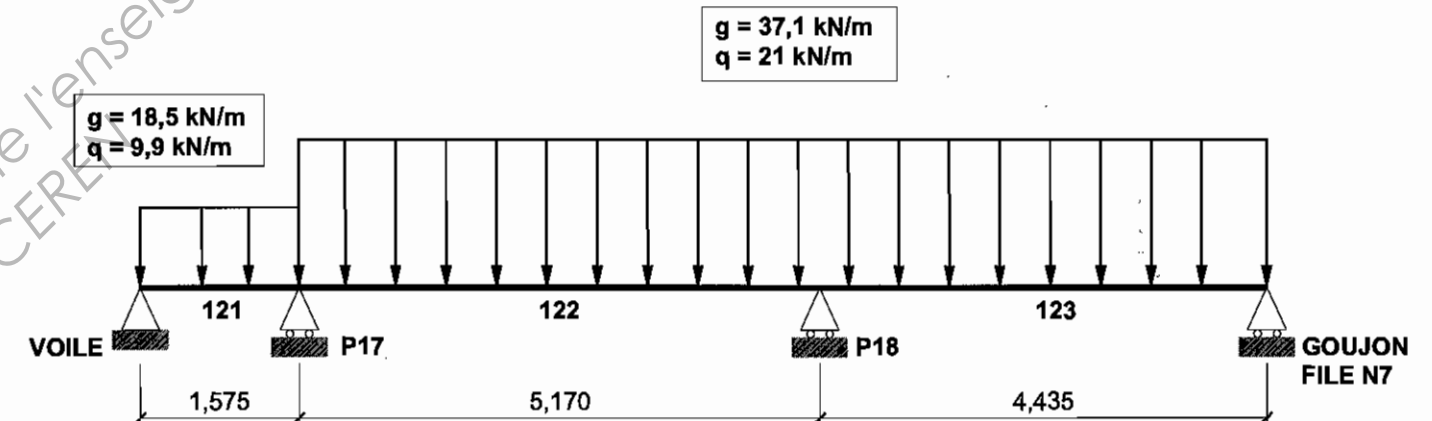
ETUDE C : Etude de la poutre continue 121/122/123 du PH du RdC

Documents à consulter : DT4, DA3, DA4

C.1 - Charges reprises par la poutre :

⇒ En raisonnant sur la travée 123 uniquement, déterminer les valeurs des charges permanentes g (en kN/m) et les charges d'exploitation q (en kN/m) reprises par la poutre.

Le schéma mécanique retenu pour l'étude complète de la poutre vous est fourni :



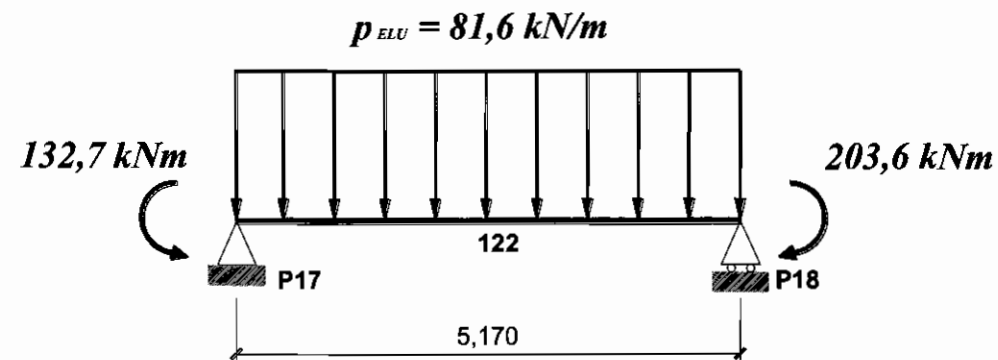
C.2 - Cas de charges :

⇒ Faire un schéma mécanique de la poutre continue, précisant les pondérations aux ELU de g et q sur chaque travée, pour obtenir le moment maximum sur l'appui P18.

C.3 - Sollicitations :

On s'intéresse au cas de charge qui donne le moment maximum sur l'appui P18. Une étude de la poutre par la méthode des 3 moments a permis d'établir les valeurs des moments à l'axe des appuis P17 et P18 :

$$\begin{aligned} M_{P17} &= -132,7 \text{ kNm} \\ M_{P18} &= -203,6 \text{ kNm} \end{aligned}$$



⇒ Sur le **DR1**, tracer précisément le diagramme de moment fléchissant dans la travée 122.

C.4 - Ferrailage de principe de la poutre :

Sur le **DR1**,

- ⇒ Tracer la courbe enveloppe des moments fléchissants.
- ⇒ A partir de cette courbe enveloppe, dessiner les armatures longitudinales principales de la poutre. (Seul un ferrailage de principe est demandé. Aucun calcul n'est nécessaire ; on ne dessinera pas les armatures de montage).

C.5 - Ferrailage : aciers longitudinaux :

On donne le moment fléchissant à l'ELU maximum au nu de l'appui P18 : $M_{Ed} = -177 \text{ kNm}$

- ⇒ Calculer la section d'armatures longitudinales.
- ⇒ Effectuer un choix de barres (nombre et diamètres) permettant de respecter les contraintes suivantes :
 - la section est répartie sur deux lits d'acier.
 - le cours d'armatures d'effort tranchant est composé d'un cadre et d'un étrier.
- ⇒ Sur le **DR1**, représenter ces armatures sur une coupe transversale de la poutre, au nu de l'appui P18.

C.6 - Ferrailage : aciers transversaux :

On donne l'effort tranchant à l'ELU maximum au nu, à droite de l'appui P17 : $|V_{Ed}| = 198 \text{ kN}$

On considère que des armatures d'efforts tranchants sont nécessaires.

- ⇒ Calculer l'espacement s des deux premiers cours d'armatures d'effort tranchant, au voisinage de l'appui. (Les armatures d'effort tranchant sont composées d'un cadre HA6 + 1 étrier HA6).

ETUDE D : Etude du poteau en béton armé P21 du RdC

Documents à consulter : DT3, DT4, DT5, DA4

L'étude proposée concerne le poteau P21. Ce poteau, situé en rive du hall est libre sur deux hauteurs d'étages. Il reprend les charges amenées par les travées 211 et 212 de la poutre continue courbe, au niveau du PH de l'étage. Il reprend également des charges amenées par la poutre métallique UPN 180 de la file N2, au niveau de la charpente métallique.

Hypothèses :

- L'effort normal en pied de poteau, poids propre compris, vaut $N_{Ed} = 410 \text{ kN}$
- La longueur efficace (de flambement) est prise égale à $l_0 = 6,715 \text{ m}$

D.1 - Section d'armatures longitudinales :

- ⇒ Calculer la section d'armatures longitudinales à disposer dans le poteau. Faire un choix d'aciers.

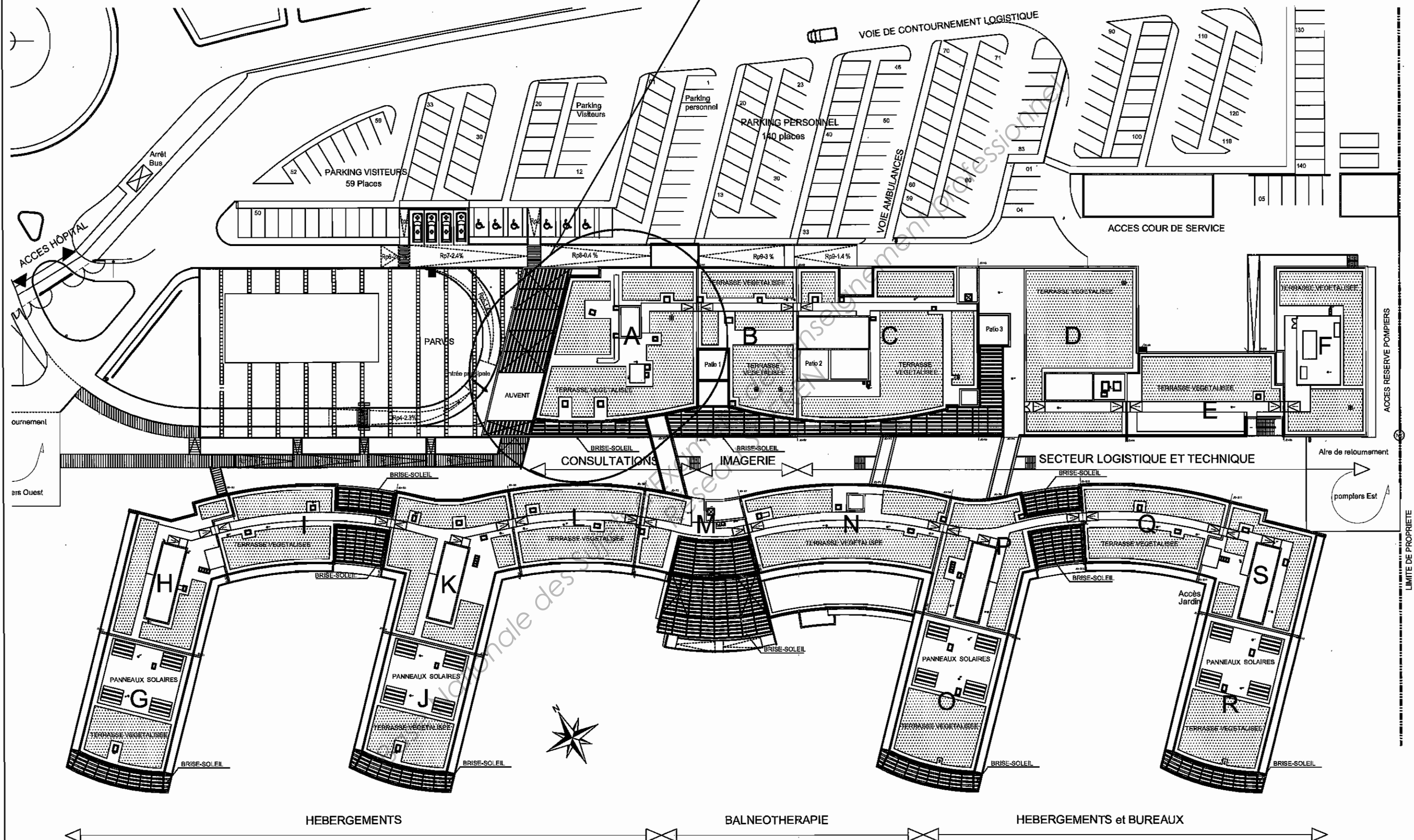
D.2 - Section d'armatures transversales :

- ⇒ Déterminer les armatures transversales (diamètre et espacement), en partie courante.

D.3 - Schéma d'armatures :

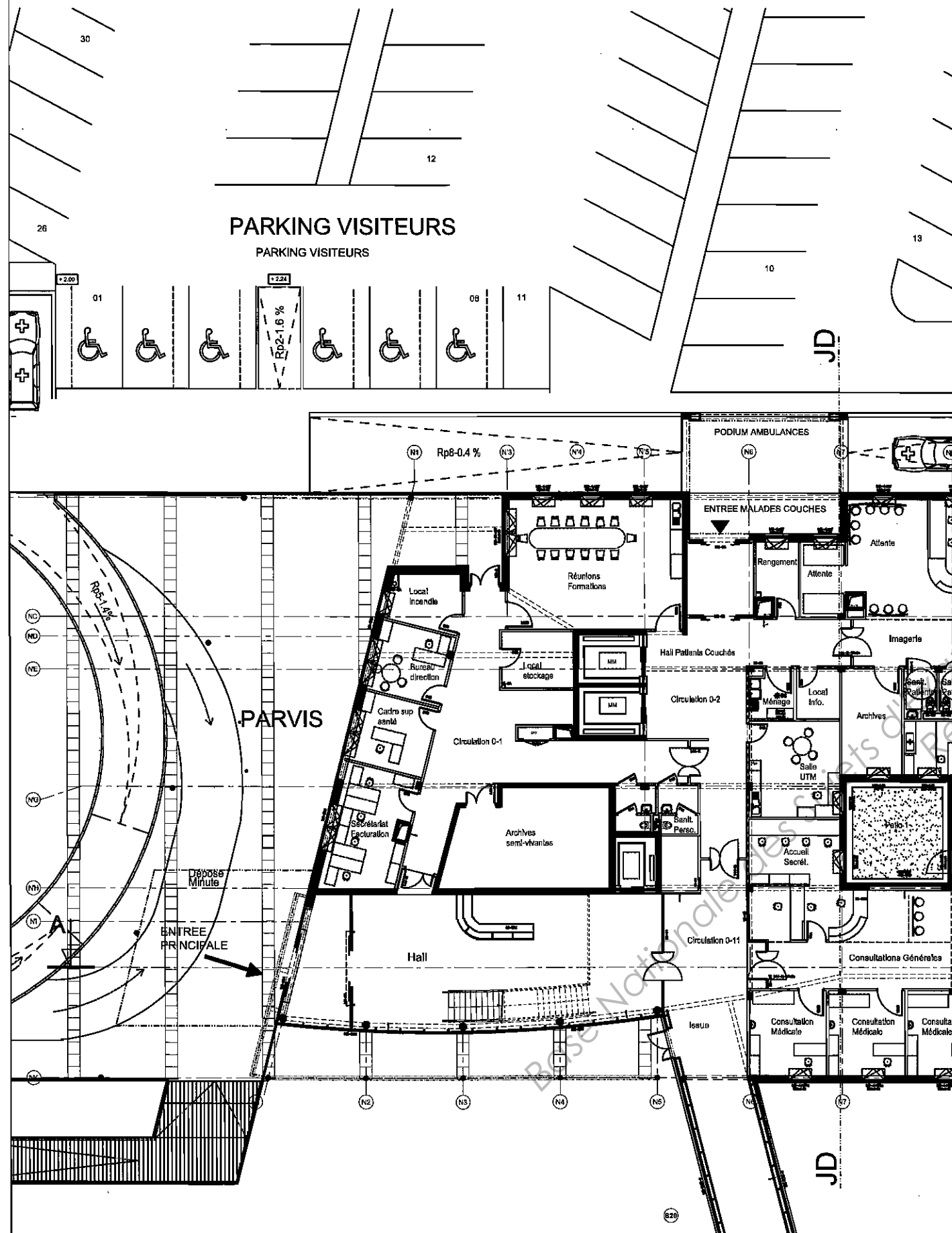
- ⇒ Faire le schéma d'une section transversale du poteau en représentant toutes les armatures, avec précisément celles calculées aux questions D.1 et D.2.

Bloc A : Bâtiment étudié



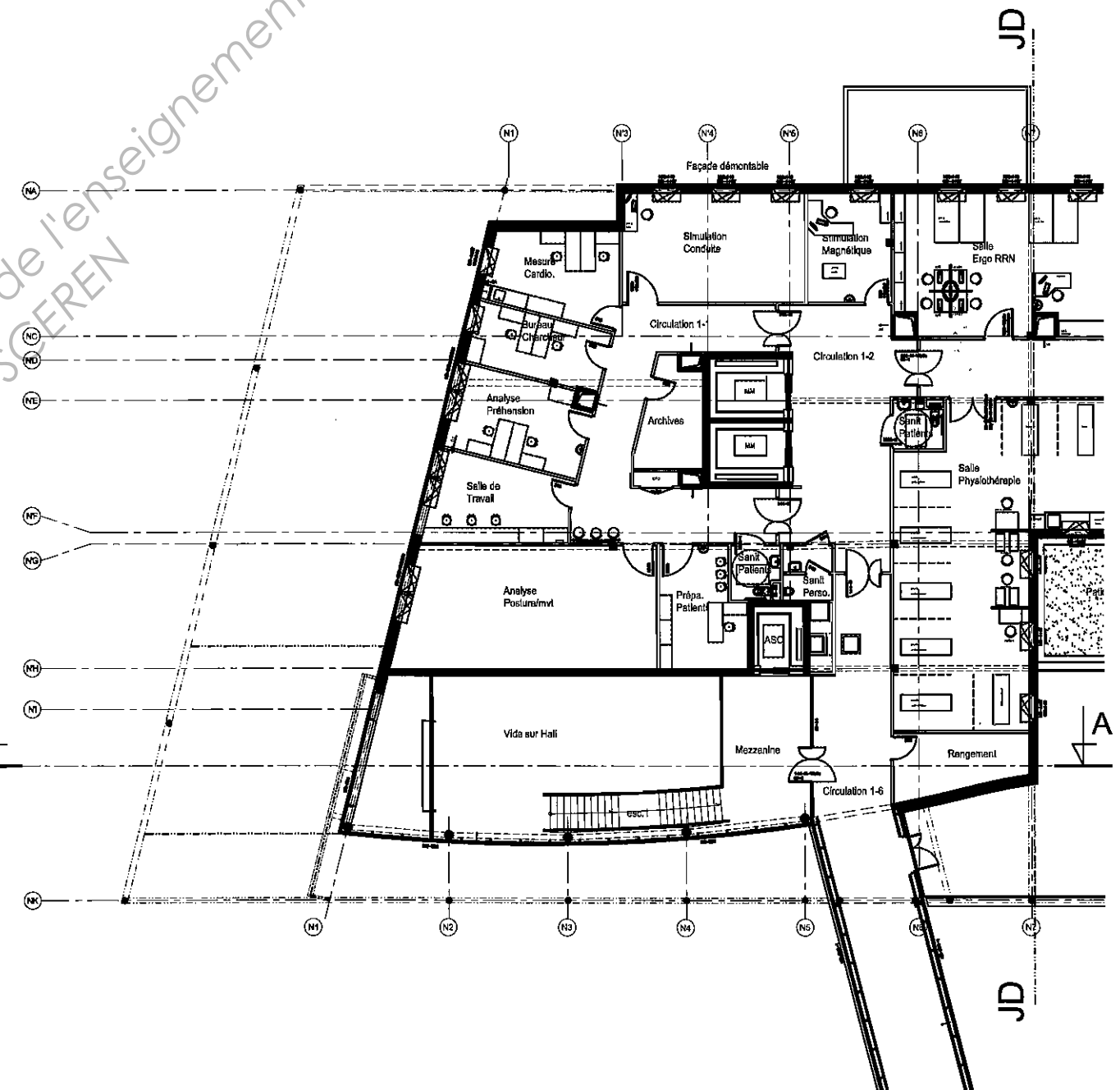
Bloc A : Plan du rez de chaussée

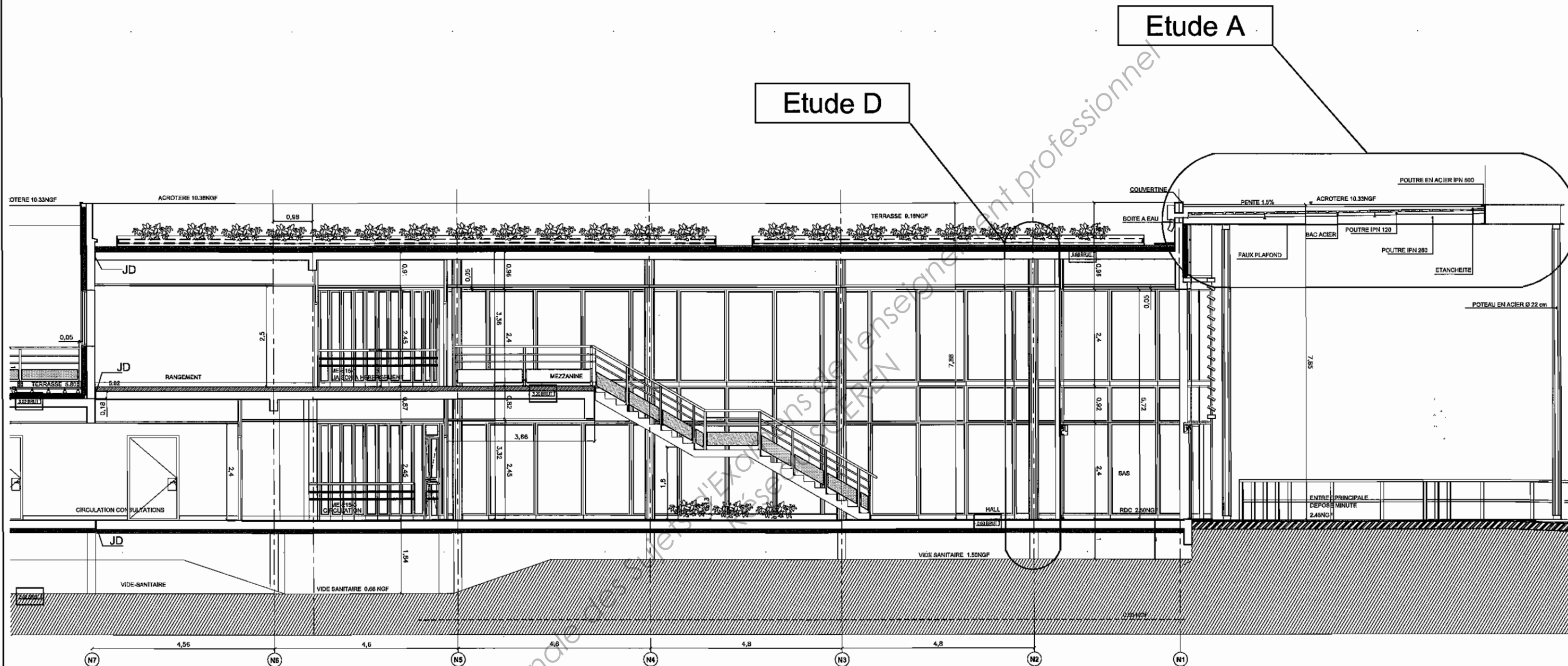
Ech : non définie



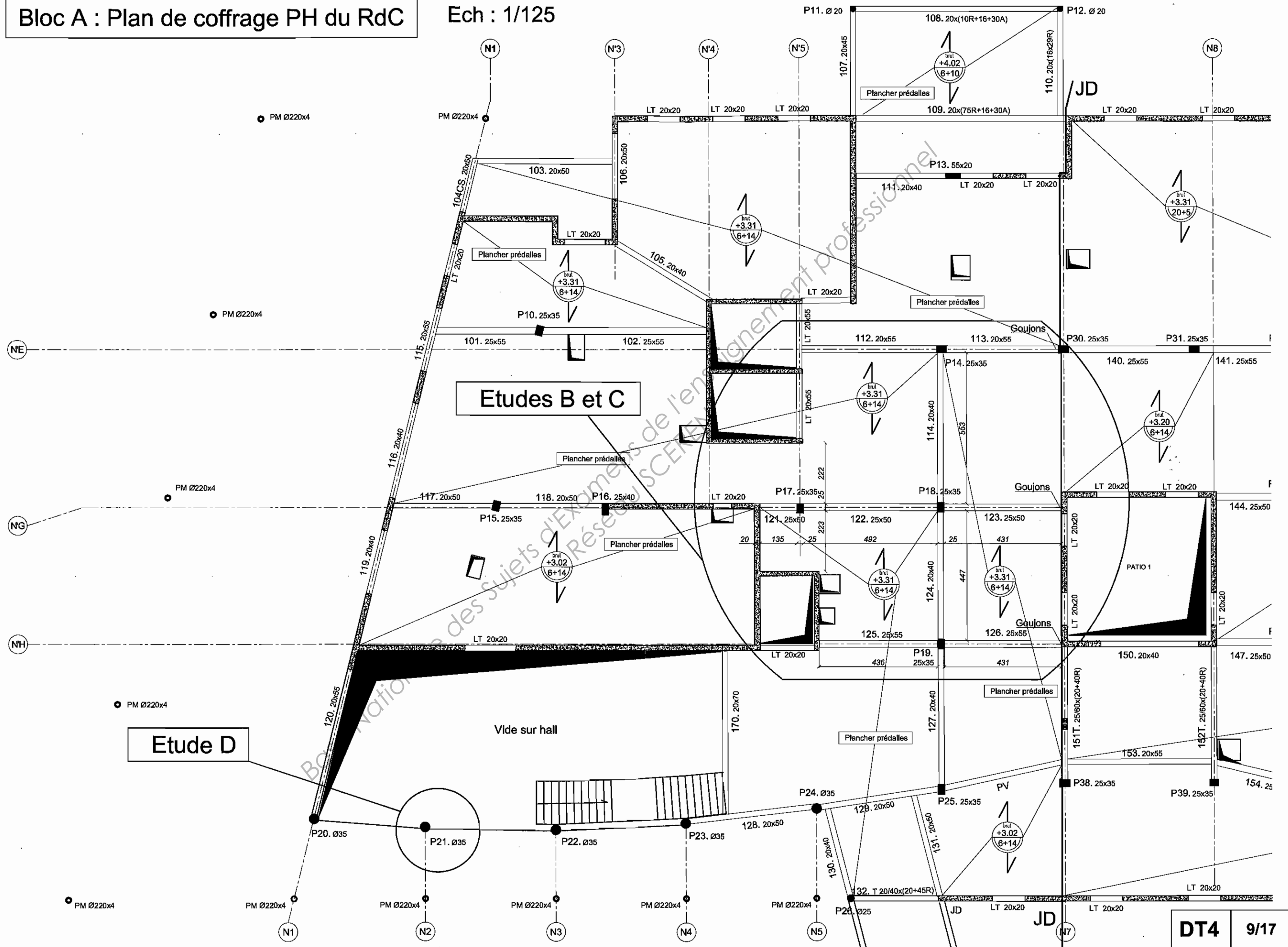
Bloc A : Plan de l'étage

Ech : non définie





Ech : 1/125



Bloc A : Plan de coffrage PH de l'étage

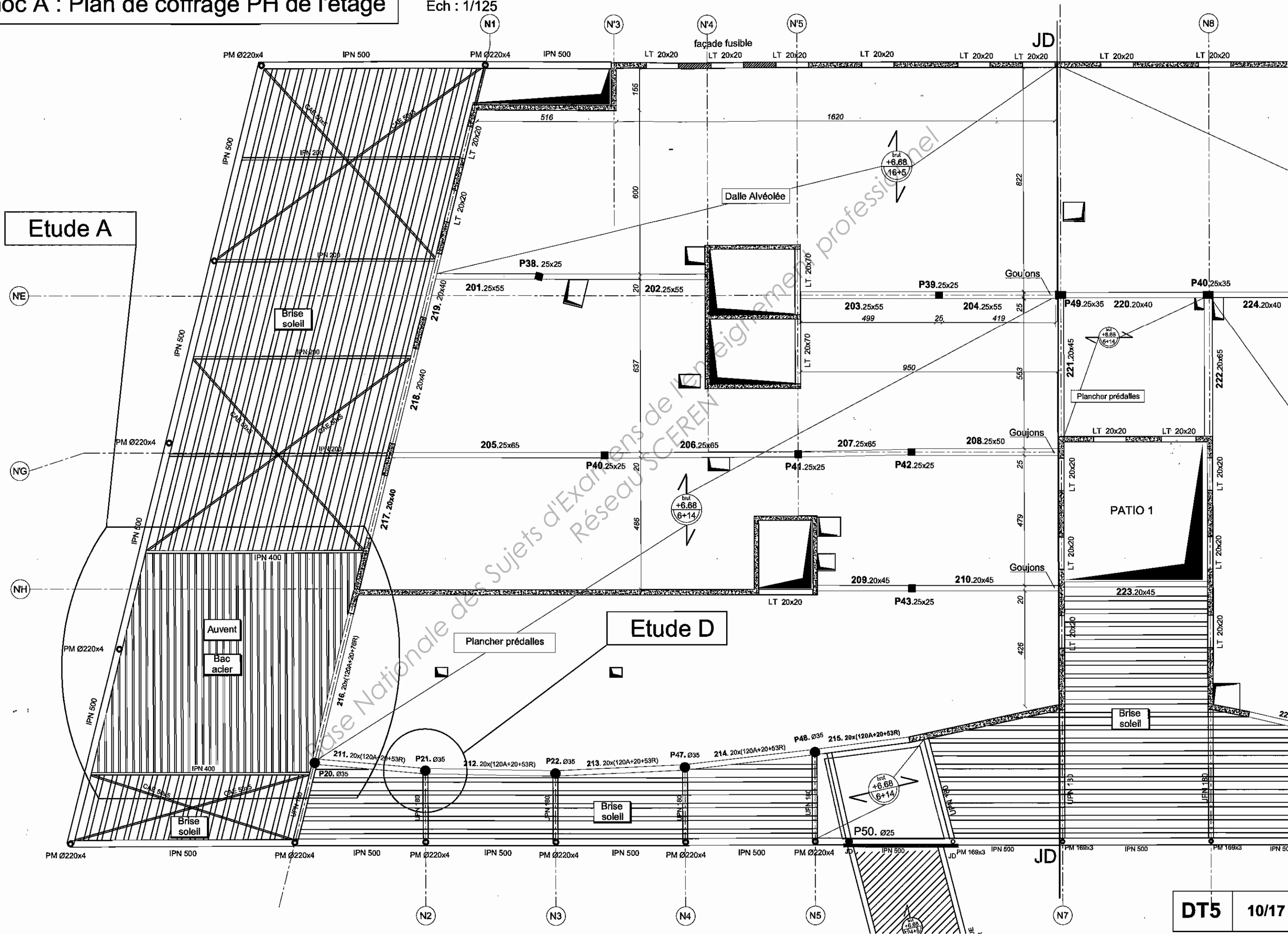
Ech : 1/125

Etude A

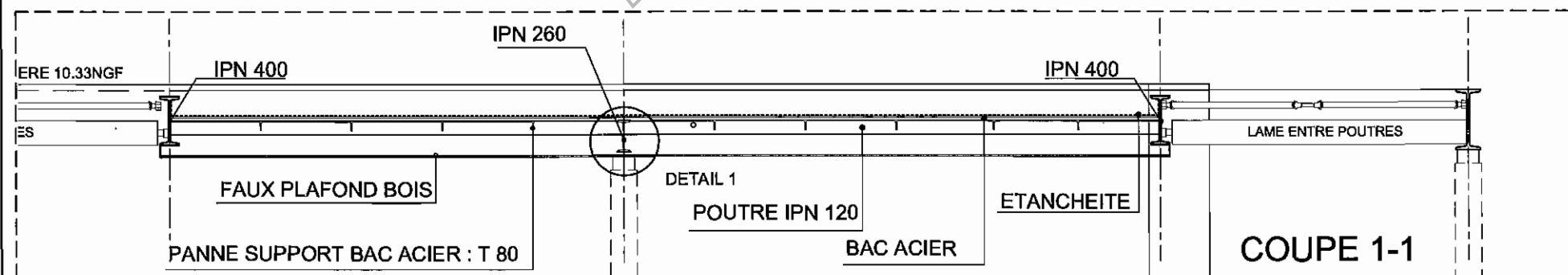
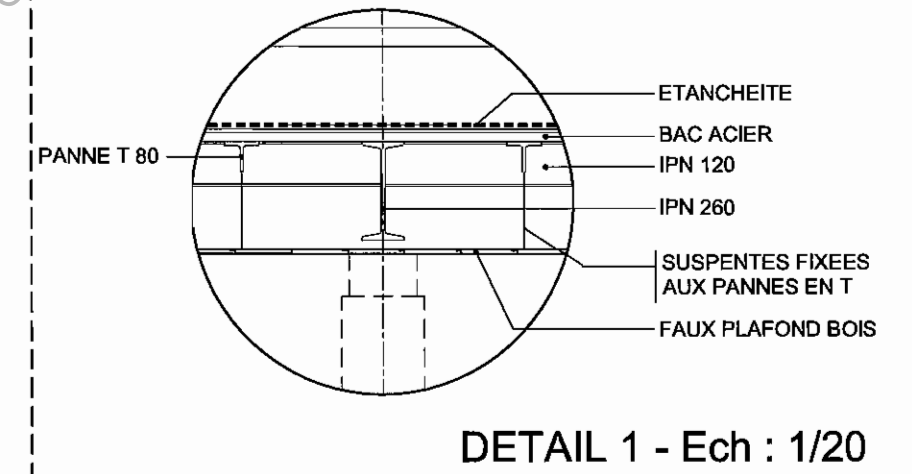
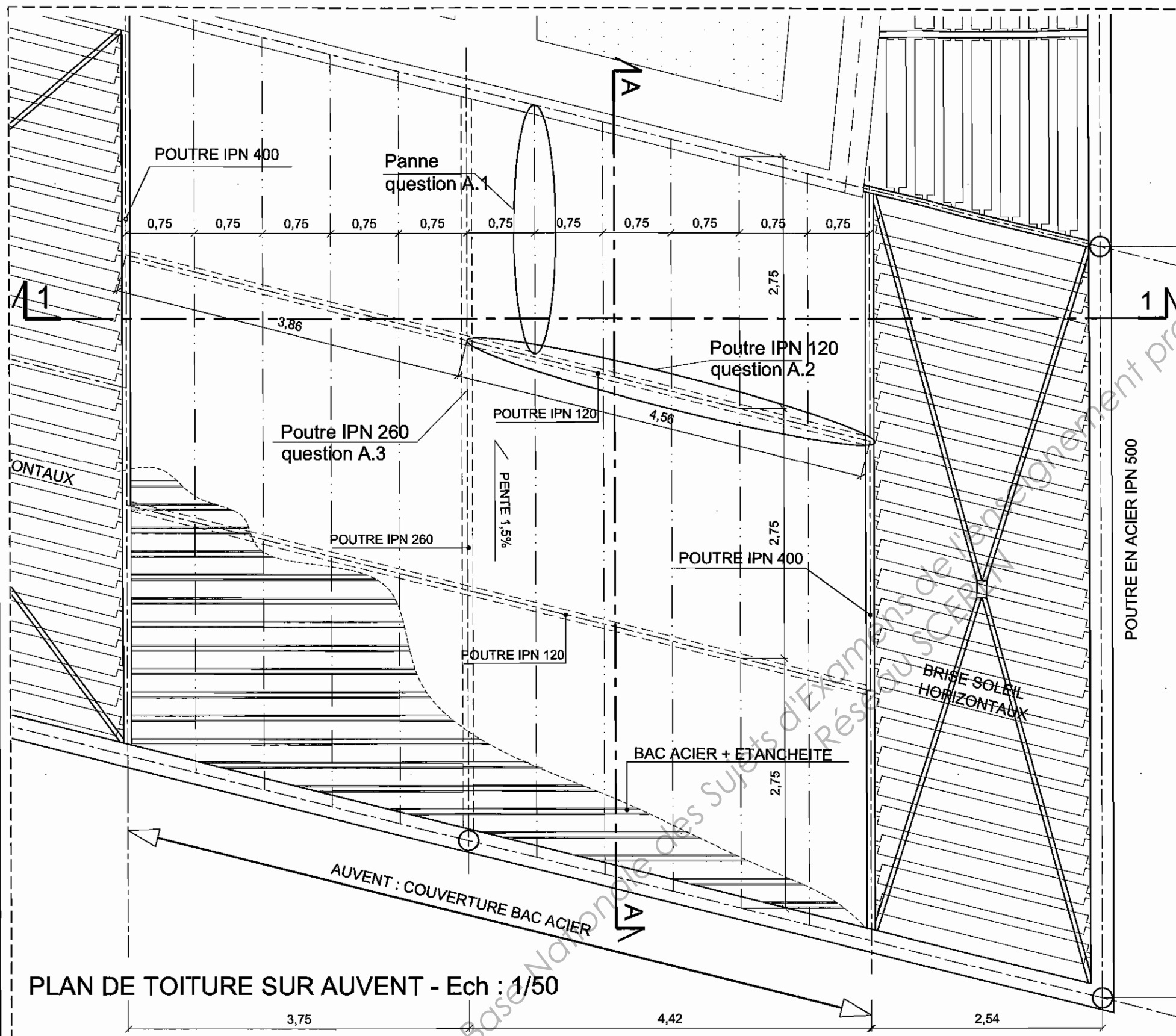
Etude D

DT5

10/17



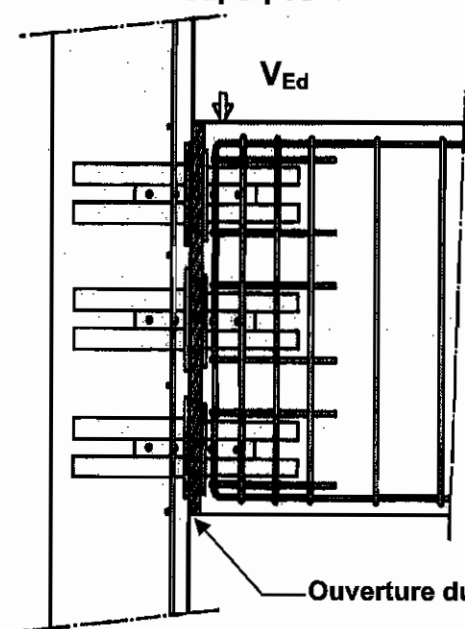
BLOC A : TOITURE ET CHARPENTE SUR AUVENT



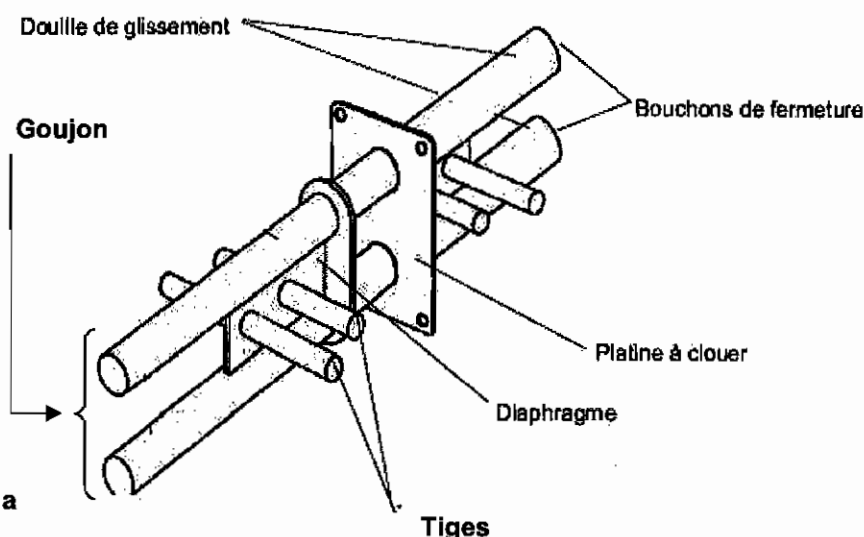
DOCUMENTATION GOUJON STAIFIX HALFEN DSD

Description du produit :

Liaison poutre / voile
Exemple avec 3 goujons superposés



Goujon STAIFIX HALFEN type DSD



TYPE	A (mm)	B (mm)	C (mm)	D (mm)	E (mm)	F (mm)	G (mm)	H (mm)	J (mm)	L (mm)	M (mm)	N (mm)	O (mm)	P (mm)
DSD25	40	60	80/140	14	78	28	31	100	10	135	120	81	250	30
DSD30	48	60	80/140	16	84	28	31	100	12	140	120	87	260	30
DSD50	50	60	80/160	18	84	28	31	100	12	150	130	87	280	30
DSD75	75	70	100/180	22	86	31	33	150	14	175	150	88	340	40
DSD100	100	100	100/200	30	104	36	34	200	16	235	210	108	400	70

Données techniques : efforts tranchants résistants, pour un goujon :

VRu : effort tranchant résistant à l'ELU en kN

VRs : effort tranchant résistant à l'ELS en kN

Z = 16 cm		f _{ck} = 25 MPa						f _{ck} = 35 MPa					
	a	5	15	25	35	45	55	5	15	25	35	45	55
Goujon DSD 30	VRu	54,7	50,9	47,6	44,7	42,2	39,9	54,7	50,9	47,6	44,7	42,2	39,9
	VRs	24,3	22,6	21,2	19,9	18,7	17,7	24,3	22,6	21,2	19,9	18,7	17,7

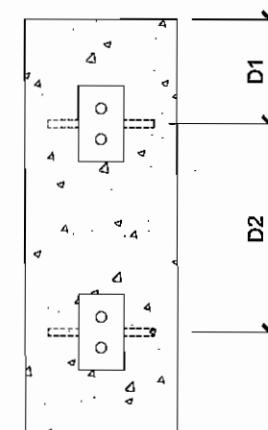
Z = 18 cm		f _{ck} = 25 MPa						f _{ck} = 35 MPa					
	a	5	15	25	35	45	55	5	15	25	35	45	55
Goujon DSD 30	VRu	54,7	50,9	47,6	44,7	42,2	39,9	54,7	50,9	47,6	44,7	42,2	39,9
	VRs	24,3	22,6	21,2	19,9	18,7	17,7	24,3	22,6	21,2	19,9	18,7	17,7
Goujon DSD 50	VRu	77,1	71,8	67,1	63	59,4	56,2	77,1	71,8	67,1	63	59,4	56,2
	VRs	34,3	31,9	29,8	28	26,4	25	34,3	31,9	29,8	28	26,4	25
Goujon DSD 75	VRu	138,3	128,7	120,3	113	106,5	100,7	138,3	128,7	120,3	113	106,5	100,7
	VRs	61,5	57,2	53,5	50,2	47,3	44,8	61,5	57,2	53,5	50,2	47,3	44,8

Z = 24 cm		f _{ck} = 25 MPa						f _{ck} = 35 MPa					
	a	5	15	25	35	45	55	5	15	25	35	45	55
Goujon DSD 30	VRu	54,7	50,9	47,6	44,7	42,2	39,9	54,7	50,9	47,6	44,7	42,2	39,9
	VRs	24,3	22,6	21,2	19,9	18,7	17,7	24,3	22,6	21,2	19,9	18,7	17,7
Goujon DSD 50	VRu	77,1	71,8	67,1	63	59,4	56,2	77,1	71,8	67,1	63	59,4	56,2
	VRs	34,3	31,9	29,8	28	26,4	25	34,3	31,9	29,8	28	26,4	25
Goujon DSD 75	VRu	138,3	128,7	120,3	113	106,5	100,7	138,3	128,7	120,3	113	106,5	100,7
	VRs	61,5	57,2	53,5	50,2	47,3	44,8	61,5	57,2	53,5	50,2	47,3	44,8

Z = 32 cm		f _{ck} = 25 MPa						f _{ck} = 35 MPa					
	a	5	15	25	35	45	55	5	15	25	35	45	55
Goujon DSD 30	VRu	54,7	50,9	47,6	44,7	42,2	39,9	54,7	50,9	47,6	44,7	42,2	39,9
	VRs	24,3	22,6	21,2	19,9	18,7	17,7	24,3	22,6	21,2	19,9	18,7	17,7
Goujon DSD 50	VRu	77,1	71,8	67,1	63	59,4	56,2	77,1	71,8	67,1	63	59,4	56,2
	VRs	34,3	31,9	29,8	28	26,4	25	34,3	31,9	29,8	28	26,4	25
Goujon DSD 75	VRu	138,3	128,7	120,3	113	106,5	100,7	138,3	128,7	120,3	113	106,5	100,7
	VRs	61,5	57,2	53,5	50,2	47,3	44,8	61,5	57,2	53,5	50,2	47,3	44,8
Goujon DSD 100	VRu	204,2	204,2	204,2	196,5	185,2	175,1	234,4	223,7	209,2	196,5	185,2	175,1
	VRs	106,9	99,4	93	87,3	82,3	77,8	106,9	99,4	93	87,3	82,3	77,8

L'utilisation en about de poutre permet de superposer les goujons. Les efforts tranchants correspondants sont alors déterminés à partir d'une hauteur Z égale à la plus faible des deux distances suivantes :

- L'écartement entre les deux goujons superposés,
- Le double de la distance au parement le plus proche dans le sens de l'effort tranchant transmis par les goujons.



$$Z = \min(2.D1, D2)$$

Ces efforts tranchants résistants VRu et VRs doivent être frappés du coefficient réducteur suivant, défini en fonction du nombre de goujons simultanément concernés par le mouvement relatif des deux éléments de structure qu'ils relient :

- 0,75 si le goujon est unique,
- 0,90 dans le cas de deux goujons,
- 1,00 à partir de trois goujons.

Le dimensionnement des goujons doit être effectué par la vérification de chacune des deux inégalités suivantes correspondant aux combinaisons d'actions fondamentales et de service.

$$V_u \leq VR_u$$

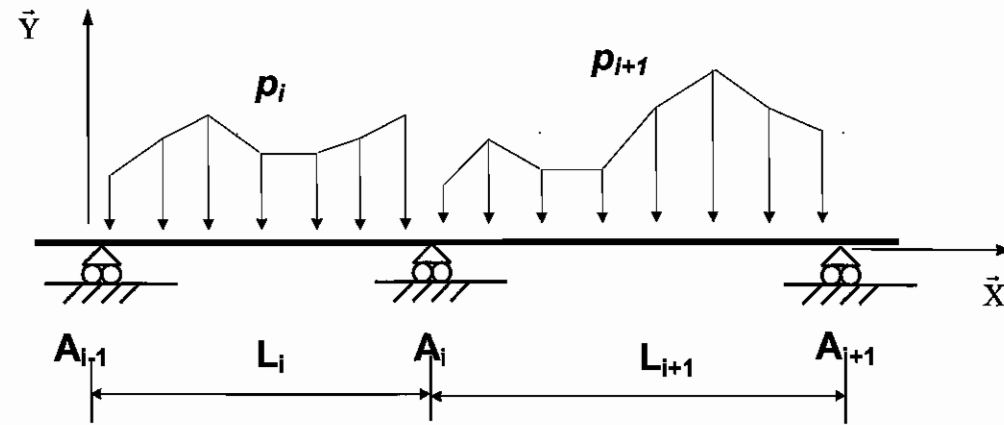
$$V_s \leq VR_s$$

Ces inégalités comparent les efforts tranchants agissant Vu et Vs aux efforts tranchants résistants VRu et VRs. La première est à vérifier dans tous les cas. La vérification de la seconde n'est exigée que dans les cas pour lesquels la fissuration est jugée préjudiciable (par exemple eu égard au comportement des revêtements de sol).

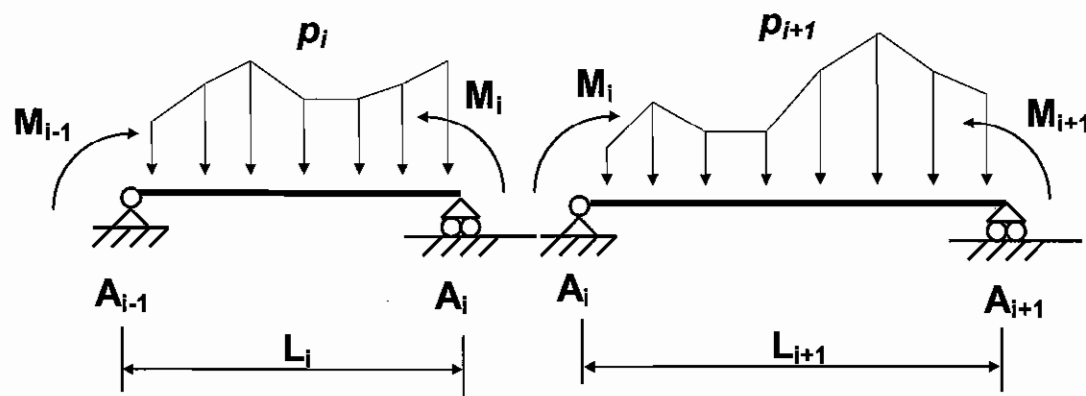
Théorème des 3 moments (formule de Clapeyron)

Hypothèse : EI = constante sur l'ensemble de la poutre.

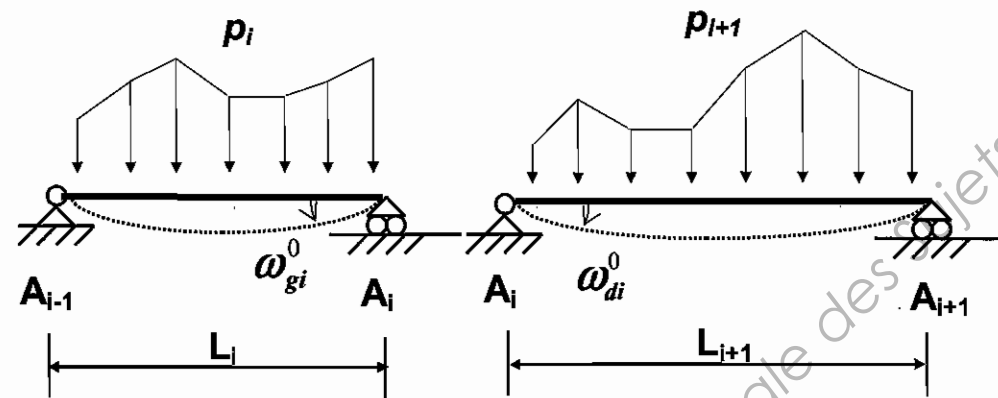
(S)



(S)



(S⁰)



$$L_i M_{i-1} + 2(L_i + L_{i+1})M_i + L_{i+1}M_{i+1} = 6EI(\omega_{di}^0 - \omega_{gi}^0)$$

Rotations aux appuis

Schéma mécanique	Rotation aux appuis
	$\omega_A = -\frac{pL^3}{24EI}$ $\omega_B = \frac{pL^3}{24EI}$

Théorème de Müller Breslau

$$\Delta_j = \int_{structure} \frac{M \times \bar{M}_j}{EI} dx$$

E : Module d'élasticité longitudinale ou module d'Young

I : Moment quadratique

Δ_j : Déplacement au point j,

M : Moment de flexion, dans la structure étudiée (S)

\bar{M}_j : Moment de flexion, dans (S_j) qui correspond à la structure initiale (S) soumise à un facteur sollicitant unité (force unité ou couple unité =1) appliqué au point j.

Dans le cas de structures composées de poutres et de barres bi-articulées :

$$\Delta_j = \int_{structure} \frac{M \times \bar{M}_j}{EI} dx + \sum_{poutres \text{ bi-articulées}} \frac{N \times \bar{N}_j}{EA} L$$

Extraits de l'Eurocode 3

Flexion simple : Moment fléchissant et effort tranchant (M et V) vérification simplifiée

Pour le moment de flexion :

On doit vérifier : $M_{Ed} \leq M_{c,Rd}$

où M_{Ed} = Moment fléchissant (agissant) de calcul sollicitant la section droite à l'ELU ;

$M_{c,Rd}$ = Résistance de calcul à la flexion de la section à l'ELU.

Section de classe 1 ou 2	Section de classe 3
$M_{c,Rd} = M_{pl,Rd}$ (moment résistant plastique)	$M_{c,Rd} = M_{el,Rd}$ (moment résistant élastique)
$M_{pl,Rd} = W_{pl} \times \frac{f_y}{\gamma_{M0}}$	$M_{el,Rd} = W_{el,min} \times \frac{f_y}{\gamma_{M0}}$

Pour l'effort tranchant

On doit vérifier : $\frac{V_{Ed}}{V_{c,Rd}} \leq 1,0$

Calcul plastique $V_{c,Rd} = V_{pl,Rd} = A_v \frac{1}{\sqrt{3}} \frac{f_y}{\gamma_{M0}} = 0,58 A_v \frac{f_y}{\gamma_{M0}}$

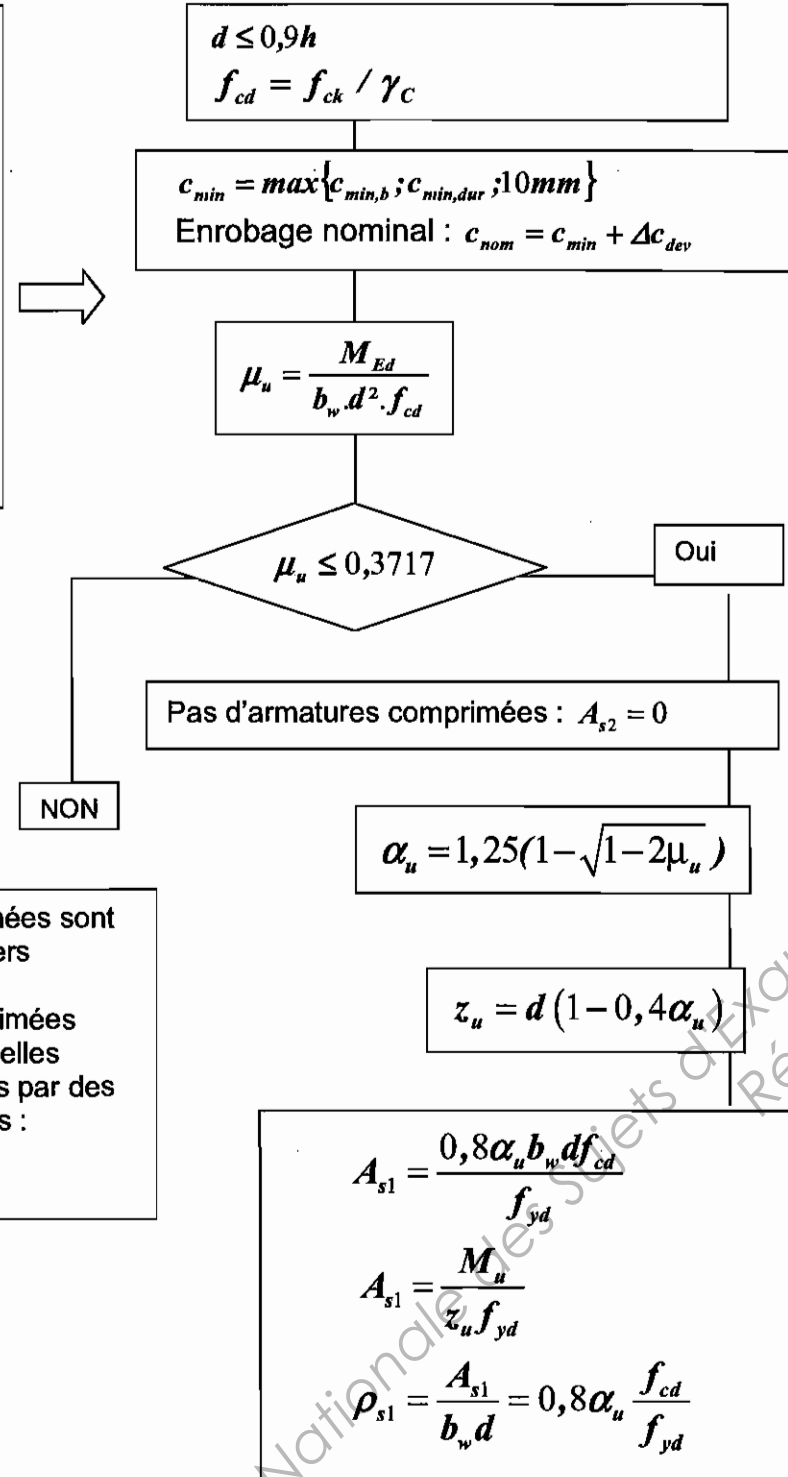
où V_{Ed} : effort tranchant (agissant) de calcul à l'E.L.U. ;

$V_{pl,Rd}$: effort tranchant résistant à l'E.L.U. ;

A_v : aire de cisaillement donnée dans les catalogues des caractéristiques des profilés.

Organigramme de calcul des armatures longitudinales en flexion simple, section rectangulaire :

Données
 Environnement : Classe d'exposition $X_{..}$
 b_w ; h
 béton $C_{..}/..$ f_{ck}
 acier B500 classe B $f_{yk} = 500$ MPa
 diagramme élasto-plastique parfait
 $f_{yd} = \frac{f_{yk}}{\gamma_s} = \frac{500}{1,15} = 435$ MPa
 $p_u = 1,35g + 1,5q$ kN/m
 moment de flexion ELU $M_{Ed} = M_u$



Le pourcentage d'armatures $\rho_{s1} = \frac{A_{s1}}{b_w d}$

Sections minimale et maximale d'armatures longitudinales tendues : Clause 9.2.1.1

$$A_{s1} > A_{s,min} = \max\left[0,26 \frac{f_{ctm}}{f_{yk}} b_w d ; 0,0013 b_w d\right]$$

$$A_{s1} < 0,04 A_c \quad \text{avec } A_c \text{ aire de la section droite de béton}$$

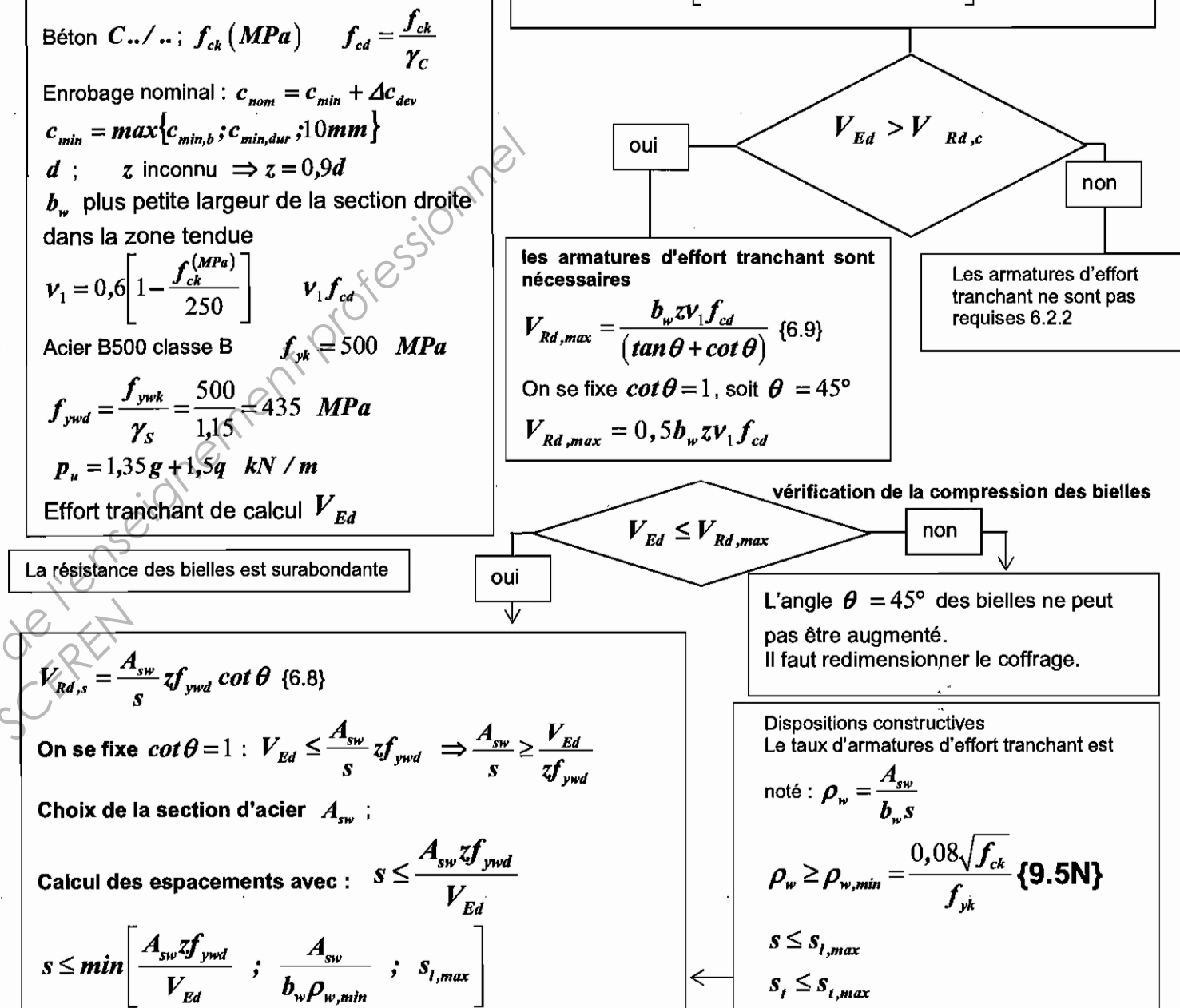
Équation alternative du bras de levier

$$z_u = d(1 - 0,4\alpha_u) = d \frac{(1 + \sqrt{1 - 2\mu_u})}{2}$$

Organigramme simplifié de calcul des armatures d'effort tranchant en flexion simple :

Données : Classe structurale : S4
 Environnement : Classe d'exposition $X_{..}$
 Béton $C_{..}/..$; f_{ck} (MPa) $f_{cd} = \frac{f_{ck}}{\gamma_c}$
 Enrobage nominal : $c_{nom} = c_{min} + \Delta c_{dev}$
 $c_{min} = \max\{c_{min,b}; c_{min,dur}; 10mm\}$
 d ; z inconnu $\Rightarrow z = 0,9d$
 b_w plus petite largeur de la section droite dans la zone tendue
 $v_1 = 0,6 \left[1 - \frac{f_{ck} (MPa)}{250}\right] v_1 f_{cd}$
 Acier B500 classe B $f_{yk} = 500$ MPa
 $f_{ywd} = \frac{f_{yk}}{\gamma_s} = \frac{500}{1,15} = 435$ MPa
 $p_u = 1,35g + 1,5q$ kN/m
 Effort tranchant de calcul V_{Ed}

$$V_{Rd,c} = \sup \left[C_{Rd,c} k (100 \rho_l f_{ck})^{1/3} ; v_{min} \right] b_w d \quad \{6.2.\}$$



$s_{l,max}$: Espacement longitudinal maximal entre les cours d'armatures d'effort tranchant

si $h > 250mm$ alors $s_{l,max} = 0,75d$ sinon $s_{l,max} = 0,90d$

$s_{t,max}$: Espacement transversal maximal des brins verticaux dans une série de cadres, étriers ou épingles.

si $h > 250mm$ alors $s_{t,max} = \inf(0,75d, 600mm)$ sinon $s_{t,max} = 0,90d$

$$k = \min \left[1 + \sqrt{\frac{200}{d^{(mm)}}} ; 2 \right] ; C_{Rd,c} = \frac{0,18}{\gamma_c} ; \text{Pourcentage } \rho_l \text{ d'acier longitudinal de flexion : } \rho_l = \frac{A_{sl}}{b_w d} \leq 0,02$$

A_{sl} : aire de la section des armatures tendues, prolongée d'une longueur supérieure à $d + l_{bd}$ au-delà de la section considérée. (l_{bd} étant la longueur d'ancrage de calcul)

$v_{min} = \frac{0,34}{\gamma_c} f_{ck}^{1/2}$ pour les dalles bénéficiant d'un effet de redistribution transversale sous le cas de charge considéré.

$v_{min} = \frac{0,053}{\gamma_c} k^{3/2} f_{ck}^{1/2}$ poutres et dalles autres que celles ci-dessus

Organigramme poteaux circulaires

Données :- Classe structurante $S4$; Classe d'exposition X ... donnant un enrobage nominal c_{nom}

- N_{Ed} , effort normal centré aux ELU

- A_c , aire du béton $A_c = \frac{\pi D^2}{4}$, D en mètres

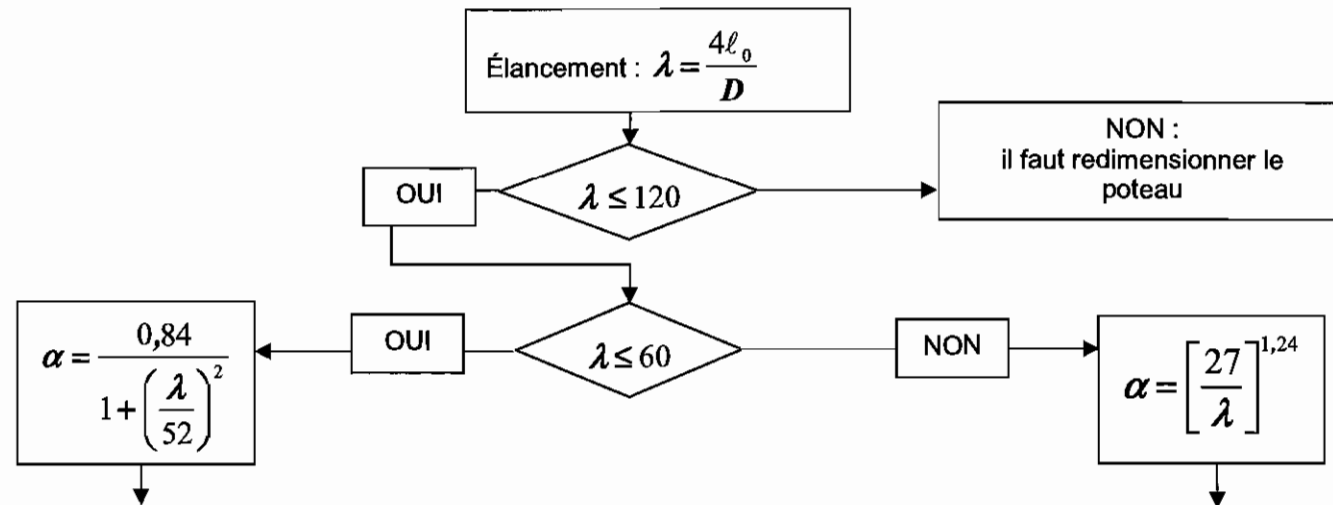
- Enrobage relatif $\delta = \frac{d'}{D}$ avec $d' = c_{nom} + \phi_l + \frac{\phi_l}{2}$

Si d' est inconnu, prendre :
40 mm pour XC1
55 mm pour XC4

- Classe du béton C ... donnant f_{ck} et $f_{cd} = \frac{f_{ck}}{1,5}$ (âge du béton > 28 jours)

- Acier B500 donnant $f_{yk} = 500$ MPa et $f_{yd} = f_{yk}/1,15 = 434,8$ MPa

- Longueur efficace (ou de flambement) notée $= \ell_0 =$ longueur libre du poteau notée l



$$N_{Ed} \leq N_{Rd} \quad \text{et} \quad N_{Rd} = \alpha k_h [A_c f_{cd} + A_s f_{yd}] \quad \text{ou} \quad N_{Rd} = \alpha k_h A_c [f_{cd} + \rho f_{yd}]$$

avec $\rho = \frac{A_s}{A_c}$ et si $D < 0,600$ m alors $k_h = [0,7 + 0,5D^{[m]}][1 - 8\rho\delta]$ sinon $k_h = 1$

La valeur de A_s est obtenue en résolvant l'équation du 2^e degré suivante :

$$(8 \frac{\delta}{A_c} f_{yd}) A_s^2 - (f_{yd} - 8\delta f_{cd}) A_s + (\frac{N_{Ed}}{K} - A_c f_{cd}) = 0 \quad \text{avec} \quad K = \alpha(0,7 + 0,5D^{[m]}) \quad \text{avec} \quad D \text{ en m}$$

En première approximation, pour obtenir une valeur approchée de A_s : $N_{Ed} = \alpha k_h A_c [f_{cd} + \rho f_{yd}]$ avec $k_h = 0,93$

Section minimale des armatures longitudinales

$$A_{s,min} = \max \left[0,10 \frac{N_{Ed}}{f_{yd}} ; 0,002 A_c \right] \{9,12N\}$$

A_c = aire de la section brute transversale de béton

f_{yd} limite élastique de calcul de l'armature

Le diamètre des barres longitudinales $\phi_l \geq \phi_{l,min} = 8$ mm

Section maximale des armatures longitudinales

en dehors des zones de recouvrement $A_{s,max} = 0,04 A_c$ dans les zones de recouvrement $A_{s,max} = 0,08 A_c$

Armatures transversales :

$$\phi_t \geq \max [6 \text{ mm} ; \phi_{l,max} / 4]$$

$$\text{espacement: } s_{cl,t} \leq s_{cl,t,max} = \min [400 \text{ mm} ; 20\phi_{l,min} ; D]$$

$\phi_{l,min}$ = diamètre de la plus petite armature longitudinale résistante

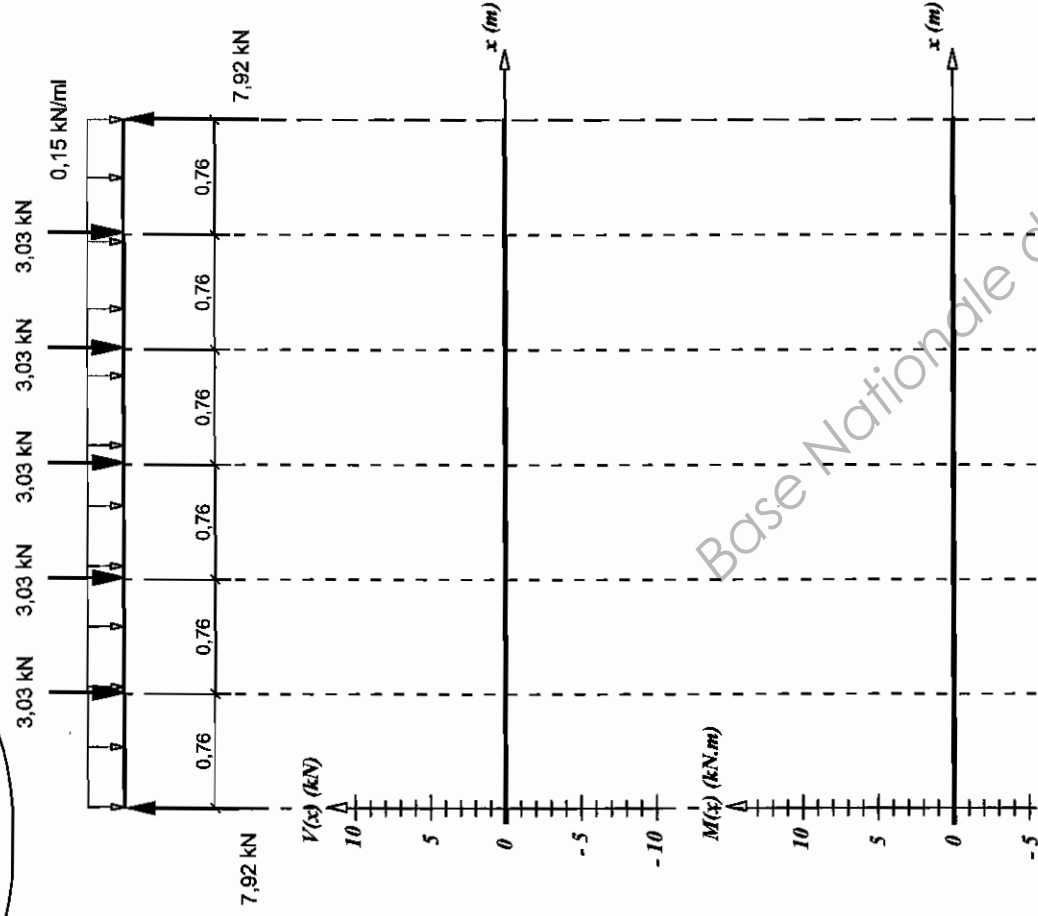
D = diamètre du poteau

Les armatures transversales doivent maintenir toutes les barres prises en compte dans les calculs de résistance.

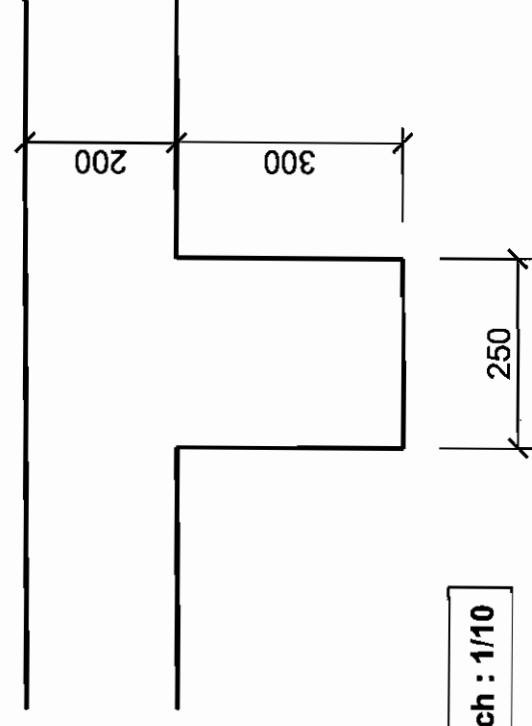
Aciers en barres

Diamètre	Poids	Périmètre	Section pour N barres en cm²									
mm	kg/m	cm	1	2	3	4	5	6	7	8	9	10
5	0,154	1,57	0,196	0,393	0,589	0,785	0,982	1,18	1,37	1,57	1,77	1,96
6	0,222	1,88	0,283	0,565	0,848	1,13	1,41	1,70	1,98	2,26	2,54	2,83
8	0,395	2,51	0,503	1,01	1,51	2,01	2,51	3,02	3,52	4,02	4,52	5,03
10	0,617	3,14	0,785	1,57	2,36	3,14	3,93	4,71	5,50	6,28	7,07	7,85
12	0,888	3,77	1,13	2,26	3,39	4,52	5,65	6,79	7,92	9,05	10,18	11,31
14	1,208	4,40	1,54	3,08	4,62	6,16	7,70	9,24	10,78	12,32	13,85	15,39
16	1,578	5,03	2,01	4,02	6,03	8,04	10,05	12,06	14,07	16,08	18,10	20,11
20	2,466	6,28	3,14	6,28	9,42	12,57	15,71	18,85	21,99	25,13	28,27	31,42
25	3,853	7,85	4,91	9,82	14,73	19,63	24,54	29,45	34,36	39,27	44,18	49,09
32	6,313	10,05	8,04	16,08	24,13	32,17	40,21	48,25	56,30	64,34	72,38	80,42
40	9,865	12,57	12,57	25,13	37,70	50,27	62,83	75,40	87,96	100,53	113,10	125,66

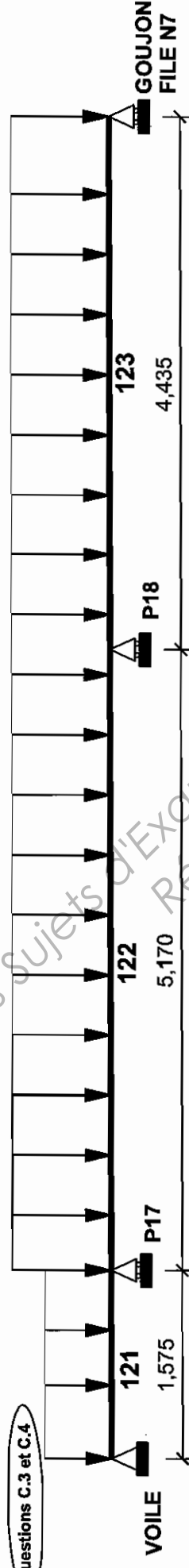
Question A.2.2



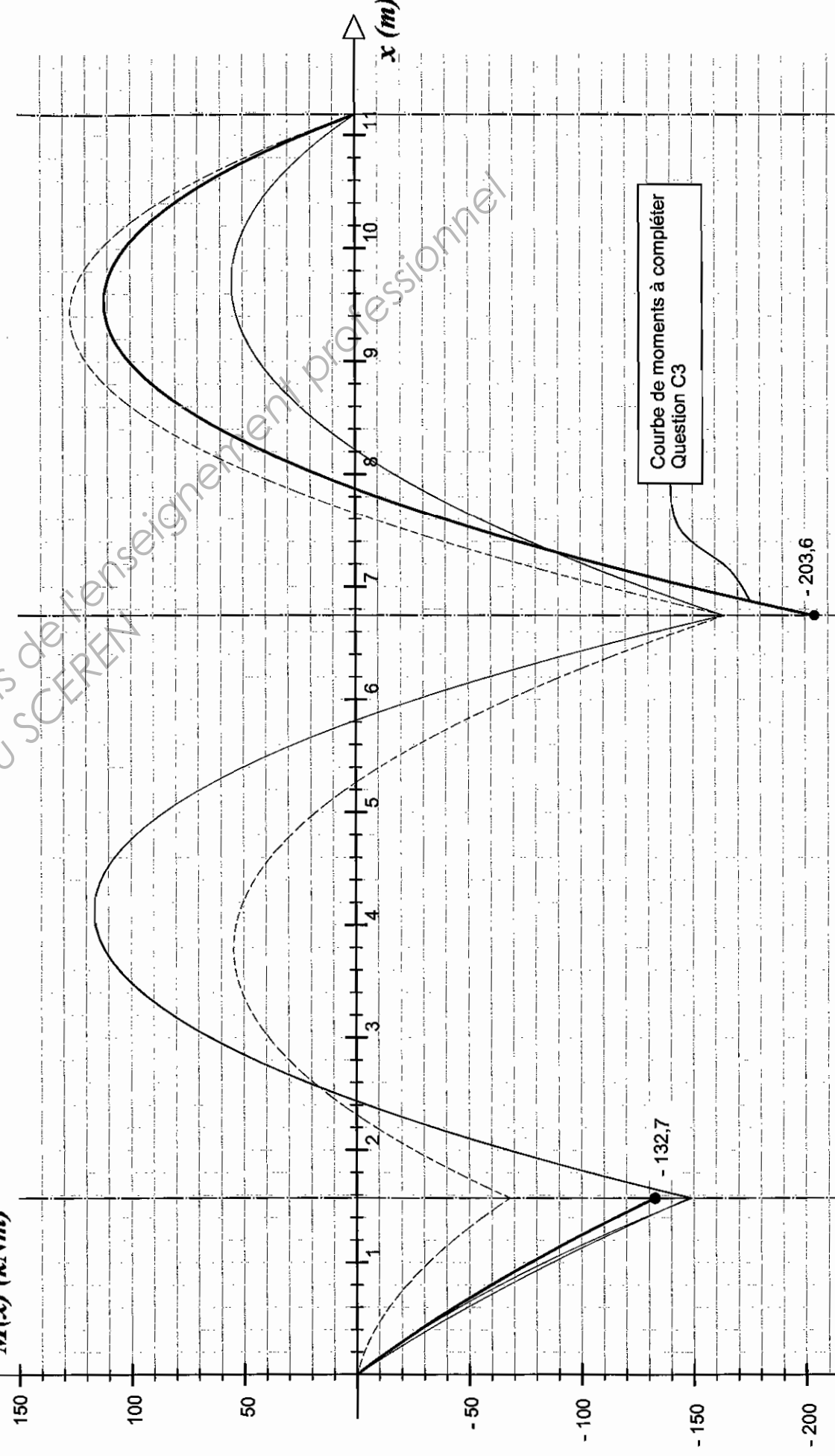
Question C.5 Coupe transversale au nu de l'appui P18



Questions C.3 et C.4



$M(x)$ (kN.m)



Copyright © 2026 FormaV. Tous droits réservés.

Ce document a été élaboré par FormaV® avec le plus grand soin afin d'accompagner chaque apprenant vers la réussite de ses examens. Son contenu (textes, graphiques, méthodologies, tableaux, exercices, concepts, mises en forme) constitue une œuvre protégée par le droit d'auteur.

Toute copie, partage, reproduction, diffusion ou mise à disposition, même partielle, gratuite ou payante, est strictement interdite sans accord préalable et écrit de FormaV®, conformément aux articles L.111-1 et suivants du Code de la propriété intellectuelle. Dans une logique anti-plagiat, FormaV® se réserve le droit de vérifier toute utilisation illicite, y compris sur les plateformes en ligne ou sites tiers.

En utilisant ce document, vous vous engagez à respecter ces règles et à préserver l'intégrité du travail fourni. La consultation de ce document est strictement personnelle.

Merci de respecter le travail accompli afin de permettre la création continue de ressources pédagogiques fiables et accessibles.

Copyright © 2026 FormaV. Tous droits réservés.

Ce document a été élaboré par FormaV® avec le plus grand soin afin d'accompagner chaque apprenant vers la réussite de ses examens. Son contenu (textes, graphiques, méthodologies, tableaux, exercices, concepts, mises en forme) constitue une œuvre protégée par le droit d'auteur.

Toute copie, partage, reproduction, diffusion ou mise à disposition, même partielle, gratuite ou payante, est strictement interdite sans accord préalable et écrit de FormaV®, conformément aux articles L.111-1 et suivants du Code de la propriété intellectuelle. Dans une logique anti-plagiat, FormaV® se réserve le droit de vérifier toute utilisation illicite, y compris sur les plateformes en ligne ou sites tiers.

En utilisant ce document, vous vous engagez à respecter ces règles et à préserver l'intégrité du travail fourni. La consultation de ce document est strictement personnelle.

Merci de respecter le travail accompli afin de permettre la création continue de ressources pédagogiques fiables et accessibles.